


제 4 교시

사회탐구 영역(세계사)

성명

수험 번호

1. (가)에서 성립된 문명에 대한 설명으로 옳은 것은?



(가)의 통치자인 파라오는 자신을 태양신의 아들이라 칭하면서 살아 있는 최고의 신으로서 절대 권력을 행사하였다. 파라오는 전 국토를 소유하고 신관과 관료를 거느리면서 관개 사업을 추진하였고, 자신이 나일 강의 범람을 조절할 수 있는 능력이 있다고 주장하였다.

- ① 거대한 신전인 지구라트를 건립하였다.
- ② 갑골문으로 점복의 내용을 기록하였다.
- ③ 모헨조다로 등 계획도시를 건설하였다.
- ④ 점토판에 쉐기 문자를 사용하여 기록을 남겼다.
- ⑤ 죽은 자를 위한 사자의 서를 미라와 함께 묻었다.

2. 다음 가상 대화를 통해 알 수 있는 왕조에 대한 설명으로 옳은 것은? [3점]



그대는 서역으로 가서 꼭 (대)월지를 찾아 동맹을 맺고 와야 하오.

신, 장건은 폐하의 뜻이 이루어지도록 사명을 다하겠습니다.

- ① 부병제가 실시되었다.
- ② 진승·오광의 난이 일어났다.
- ③ 국가가 소금과 철을 전매하였다.
- ④ 철제 농기구가 사용되기 시작하였다.
- ⑤ 다양한 사상을 주장하는 제자백가가 출현하였다.

3. (가)에 들어갈 내용으로 적절한 것은?

메로베우스 왕조의 궁재였던 할아버지는 피레네 산맥을 넘어온 이슬람 군대를 투르와 푸아티에 사이에서 격퇴하였다. 아버지는 실권을 잃어버린 메로베우스 왕조의 왕을 몰아내고 새 왕조를 열었다. 아버지의 뒤를 이어 왕위에 오른 나는 (가)

- ① 반달 왕국을 정복하였다.
- ② 군관구제와 둔전병제를 실시하였다.
- ③ 레히펠트 전투에서 마자르 족을 격퇴하였다.
- ④ 아헨에 궁정 학교를 세워 문예를 부흥시켰다.
- ⑤ 잉글랜드를 정복하고 덤즈데이 북을 제작하였다.

4. (가) 인물이 활동하던 시기의 유럽 문화에 대한 설명으로 옳은 것을 <보기>에서 고른 것은? [3점]

만물의 중심에는 태양이 있다. 전체를 동시에 밝혀 주는 휘황찬란한 신전이 자리 잡기에 그보다 더 좋은 자리가 또 어디 있던 말인가. 혹자는 그것을 빛이라 불렀고, 혹자는 영혼이라 불렀고, 또 어떤 이는 세상의 길잡이라 불렀으니 그 얼마나 적절한 표현인가. 태양은 왕좌에서 자기 주위를 선회하는 별들의 무리를 내려다본다.

— (가), 『천체의 회전에 관하여』 —

— <보기> —

ㄱ. 홉스가 리바이어던에서 사회 계약설을 제시하였다.  
 ㄴ. 칼뱅이 크리스트교 강요에서 예정설을 주장하였다.  
 ㄷ. 몽테스키외가 법의 정신에서 삼권 분립을 주장하였다.  
 ㄹ. 토마스 모어가 유토피아에서 이상 사회를 묘사하였다.

- ① ㄱ, ㄴ    ② ㄱ, ㄷ    ③ ㄴ, ㄷ    ④ ㄴ, ㄹ    ⑤ ㄷ, ㄹ

5. 밑줄 친 '이 제도'가 실시된 시기의 문화에 대한 설명으로 옳은 것은?

이 제도는 본래 각 지방에 파견된 중정관이 관할 지역의 여론을 토대로 인물을 평가하여 유능한 자를 중앙에 추천하는 것이다. 그러나 각 지방의 실력자들이 여론을 장악하였기 때문에 원래 취지와 달리 권세 있는 집안의 자제들이 높은 관직을 독점하였다.

- ① 청담 사상이 유행하였다.
- ② 청명상하도가 제작되었다.
- ③ 공영달이 오경정의를 편찬하였다.
- ④ 이백, 두보 등의 시인이 활약하였다.
- ⑤ 서상기, 비파기 등의 원곡이 만들어졌다.

6. 다음 가상 인터뷰의 (가)에 들어갈 내용으로 적절한 것은? [3점]



- ① 만주족을 물리치고 한족 정부를 세우기 위해서입니다.
- ② 청 정부를 도와 서양 세력을 멸망시키기 위해서입니다.
- ③ 메이지 유신을 본받아 근대적 개혁을 추진하기 위해서입니다.
- ④ 민간 철도를 국유화하여 재정 위기를 극복하기 위해서입니다.
- ⑤ 전통적 가치를 유지하면서 서양 문물을 도입하기 위해서입니다.

7. (가), (나)에 나타난 혁명의 영향으로 옳은 것을 <보기>에서 고른 것은? [3점]

(가) 샤를 10세는 더 이상 파리에 들어올 수 없다. 그는 인민의 피를 흐르게 했기 때문이다. …(중략)… 삼색기를 들고 전장에 나갔던 오를레앙 공작은 우리가 간절히 바랐던 대로 현장을 받아들였고, 프랑스 인민으로부터 왕관을 받게 될 것이다.

(나) 루이필리프의 반동적인 정부는 파리 민중의 영웅적인 투쟁으로 타도되었다. …(중략)… 임시 정부는 공화정의 수립을 원한다. 새로운 공화정은 모든 계급의 시민으로 이루어진 국민의 통일체이자 국민의 정부여야 한다.

— <보기> —

- ㄱ. (가) - 그리스 독립 전쟁이 시작되었다.
- ㄴ. (가) - 벨기에가 네덜란드로부터 독립하였다.
- ㄷ. (나) - 프랑크푸르트 국민 회의가 개최되었다.
- ㄹ. (나) - 이탈리아에서 카르보나리당이 결성되었다.

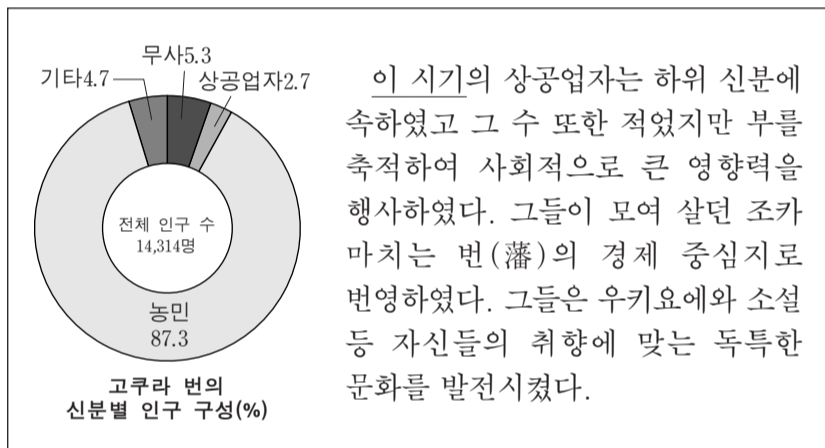
- ① ㄱ, ㄴ    ② ㄱ, ㄷ    ③ ㄴ, ㄷ    ④ ㄴ, ㄹ    ⑤ ㄷ, ㄹ

8. 다음 자료에 나타난 왕조의 경제 상황에 대한 설명으로 옳은 것은?

우리가 중국에 들어와 천하를 지배하고, 나아가 외번(外藩)인 몽골, 칭하이, 티베트 등을 공략하여 영토를 넓혔다. …(중략)… 인의를 알아야 중화인이고, 윤리를 모르면 오랑캐이다. 어찌 태어난 곳을 가지고 오랑캐를 구별할 수 있겠는가?  
- 『대의각미록』 -

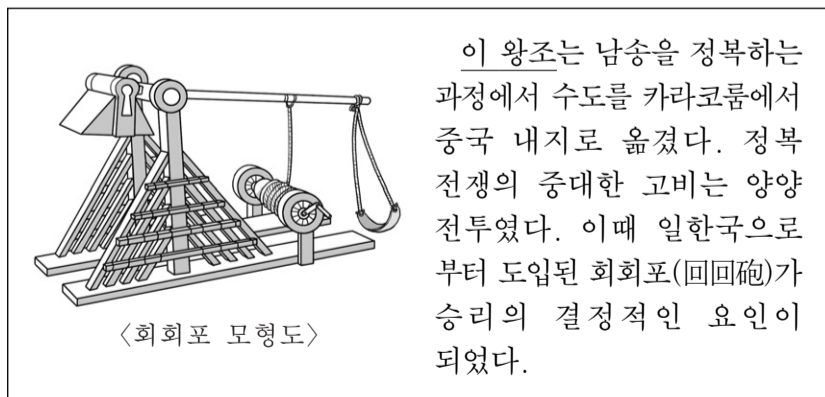
- ① 공소와 회관이 세워졌다.
- ② 감합 무역이 시행되었다.
- ③ 일종의 어음인 비전이 널리 사용되었다.
- ④ 화북 지방에서 2년 3모작이 시작되었다.
- ⑤ 농민에게 저리로 융자하는 청묘법을 실시하였다.

9. 밑줄 친 '이 시기'의 일본에 대한 설명으로 옳은 것은?



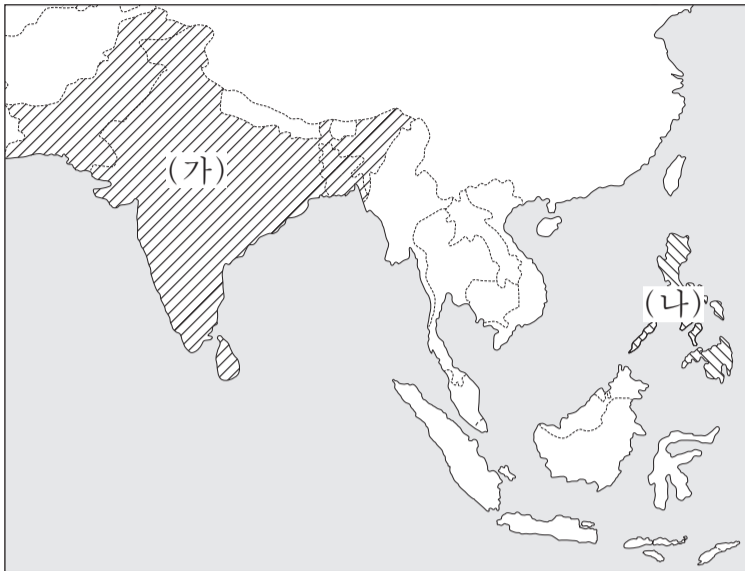
- ① 일본서기가 편찬되었다.
- ② 국풍 문화가 형성되었다.
- ③ 아스카 문화가 발달하였다.
- ④ 무로마치 막부가 등장하였다.
- ⑤ 산킨고타이제가 실시되었다.

10. 밑줄 친 '이 왕조'에서 이루어진 동서 교류에 대한 설명으로 옳은 것은? [3점]



- ① 현장이 대당서역기를 집필하였다.
- ② 아담 샬이 서양 역법으로 달력을 만들었다.
- ③ 마테오 리치가 곤여만국전도를 제작하였다.
- ④ 마르코 폴로가 중국을 방문하고 여행기를 남겼다.
- ⑤ 카스틸리오네가 서양식 화법과 건축술을 소개하였다.

11. (가), (나) 지역에서 일어난 민족 운동에 대한 설명으로 옳은 것은?



- ① (가) - 호세 리살이 독립 운동 단체를 조직하였다.
- ② (가) - 브라모(브라흐마) 사마지 운동으로 민족의식이 고양되었다.
- ③ (나) - 판 보이찌우가 동유 운동을 전개하였다.
- ④ (나) - 와하브(와하비) 운동으로 독립 정신이 고취되었다.
- ⑤ (나) - 카르티니의 여성 교육 운동으로 민족적 자각이 높아졌다.

12. (가), (나)의 독립과 관련된 설명으로 옳지 않은 것은?

○ 전능하신 신이 영국과 (가) 을/를 그렇게 멀리 떨어 뜨려 놓은 것만 보아도, 이 땅에 대한 영국의 지배가 결코 신의 뜻이 아니라는 것을 알 수 있습니다. ... (중략) ... 종교 개혁 전에 이 대륙이 발견된 것은 신께서 장차 박해 받을 청교도에게 피난처를 열어 주시기 위함이었습니다.

○ 투쟁 루베르튀르와 함께 싸운 우리들은 (나) 주민에게 안정된 정부를 보장하고, 인민의 피로 확립된 자유를 누리게 하고자 하는 결의를 열강들에게 선포합니다. ... (중략) ... 식민 지배하에 흑인 노예로 살기보다는 차라리 죽음을 택하고, 독립을 위해 목숨이 다할 때까지 싸울 것을 맹세합니다.

- ① (가) - 파리 조약으로 독립을 승인받았다.
- ② (가) - 제2차 대륙 회의에서 독립을 선언하였다.
- ③ (나) - 프랑스로부터 독립을 쟁취하였다.
- ④ (나) - 라틴 아메리카 최초의 독립 국가였다.
- ⑤ (나) - 먼로 선언의 영향을 받아 독립 전쟁을 전개하였다.

13. (가)에 대한 설명으로 옳은 것을 <보기>에서 고른 것은? [3점]

(가) 은/는 직접적인 무력 사용 대신 경제·외교·안보 협력 등의 수단을 통해 이루어지는 국제적 대립과 긴장 상태를 의미한다. 제2차 세계 대전 이후 소련은 점령 지역에 공산주의 정권을 세우고 자본주의 진영의 접근을 차단하였다. 미국은 그리스 사태를 계기로 사회주의 봉쇄 정책을 취하였다. 이른바 '철의 장막' 을 사이에 둔 동서 양 진영의 대립은 베를린 봉쇄와 쿠바 미사일 위기로 격화되었다.

- <보기> —
- ㄱ. 마셜 계획의 추진에 영향을 주었다.
  - ㄴ. 국제 연맹이 무력해지는 원인이 되었다.
  - ㄷ. 북대서양 조약 기구 결성의 배경이 되었다.
  - ㄹ. 독·소 불가침 조약이 체결되는 계기가 되었다.

- ① ㄱ, ㄴ    ② ㄱ, ㄷ    ③ ㄴ, ㄷ    ④ ㄴ, ㄹ    ⑤ ㄷ, ㄹ

14. 다음 주장을 펼친 인물에 대한 설명으로 옳지 않은 것은? [3점]

지금 전개되고 있는 대혁명은 사회주의 혁명을 완수하기 위한 새로운 단계이다. 우리의 목적은 자본주의의 길을 걷는 실용주의자들과 싸우고, 교육과 문화 예술을 개혁함으로써 사회주의 제도를 굳건히 뿌리박고 발전시키는 것이다.

- ① 토지 개혁과 기업의 국유화를 단행하였다.
- ② 소련과 사회주의 노선을 둘러싸고 분쟁을 벌였다.
- ③ 농공업 생산 증대를 위해 대약진 운동을 주도하였다.
- ④ 민주화를 요구하는 텐안먼 시위를 무력으로 진압하였다.
- ⑤ 국민당 세력을 물리치고 중화 인민 공화국을 수립하였다.

15. 교사의 질문에 대한 학생의 답변으로 적절하지 않은 것은?



- ① 의회가 곡물법을 제정하였습니다.
- ② 오언이 협동촌을 건설하였습니다.
- ③ 정부가 공장법 개정을 추진하였습니다.
- ④ 노동자들이 노동조합을 결성하였습니다.
- ⑤ 사회주의자들이 계급투쟁을 주장하였습니다.



16. (가) 왕조에 대한 설명으로 옳은 것은?

비트포겔은 동아시아의 북방 민족들 가운데 중국의 일부 또는 전부를 정복한 왕조를 '정복 왕조'라고 칭하여, 한족이 세운 중국의 다른 왕조들과 구별하였다. 아구타가 건국한 (가)은/는 '정복 왕조'의 한 사례이다. 이 왕조는 요를 멸망시키고, 나아가 화북 지방까지 진출하였다.

- ① 탕구트 족이 건국하였다.
- ② 파스파 문자를 사용하였다.
- ③ 만한 병용제를 운영하였다.
- ④ 맹안·모극제를 시행하였다.
- ⑤ 북면관제, 남면관제를 실시하였다.

[17~18] 다음 자료를 읽고 물음에 답하시오.

- (가)은/는 원로원으로부터 '아우구스투스'라는 칭호를 받았다. 이 칭호는 '존엄한 자'라는 뜻이다. 그는 제국의 통치권을 장악하고 있었지만 원로원을 국정의 동반자로 삼았다.
- (나)은/는 제국의 당면한 문제들을 강력하고 효과적으로 해결하기 시작하였다. 그는 로마 제국의 새로운 황금시대를 이루기 위하여 흑해 입구에 '또 하나의 로마'를 건설하고 330년에 그 도시로 수도를 옮겼다.

17. (가), (나) 인물에 대한 설명으로 옳지 않은 것은? [3점]

- ① (가) - 스스로 프린켄스라 불렸다.
- ② (가) - 악티움 해전에서 승리하였다.
- ③ (나) - 밀라노 칙령을 반포하였다.
- ④ (나) - 니케아 공의회를 개최하였다.
- ⑤ (가), (나) - 제국을 4분할 체제로 통치하였다.

18. 밑줄 친 '그 도시'의 문화유산에 대한 탐구 활동으로 적절한 것을 <보기>에서 고른 것은?

— <보기> —

- ㄱ. 연꽃 무늬와 대리석 격자가 특징인 묘당을 살펴본다.
- ㄴ. 내부를 모자이크 벽화로 장식한 건축물을 조사한다.
- ㄷ. 모스크를 기하학적인 무늬로 장식한 이유를 알아본다.
- ㄹ. 첨탑과 스테인드글라스를 특징으로 하는 고딕 양식의 건축물을 찾아본다.

- ① ㄱ, ㄴ    ② ㄱ, ㄷ    ③ ㄴ, ㄷ    ④ ㄴ, ㄹ    ⑤ ㄷ, ㄹ

19. (가), (나) 사이의 시기에 있었던 사실로 옳은 것은? [3점]

- (가) 국민당이 의석의 과반수를 차지하며 세력을 확장하자 위협을 느낀 위안 스카이는 국민당을 탄압하였다. 이로 인하여 각지에서 봉기가 일어났다. 그는 군대를 동원하여 이를 진압하였고, 얼마 후 황제에 즉위하였으나 곧 사망하였다.
- (나) 장 제스는 국민당 군의 총사령관이 되어 북벌을 시작하였다. 그는 상하이에서 공산당을 탄압하고 국민당에 대한 통제권을 확보하였다. 이후 그는 일부 군벌의 지지를 받아 중국 통일을 이루었다.

- ① 중국 혁명 동맹회가 결성되었다.
- ② 베이징의 대학생들이 5·4 운동을 일으켰다.
- ③ 일본이 난징에서 다수의 중국인을 학살하였다.
- ④ 중국 공산당이 옌안에 이르는 대장정에 나섰다.
- ⑤ 보수 세력이 정권 유지를 위해 신정을 추진하였다.

20. 밑줄 친 '그 전쟁' 중에 볼 수 있었던 모습으로 적절하지 않은 것은? [3점]

사라예보 사건으로 촉발된 그 전쟁은 몸서리치게 참혹했다. ... (중략) ... 마른 전투 이후 서부 전선은 교착 상태에 빠졌다. 오랜 전쟁 기간 동안 인간이 상상하기 어려울 정도로 끔찍하고 무참한 일들이 벌어졌다. 수많은 젊은이가 진흙탕 참호 속에서 목숨을 잃었고 처참한 학살이 자행되었다.



- ① 방독면 공장에서 일하는 프랑스 여성
- ② 무제한 잠수함 작전을 수행하는 독일 수병
- ③ 원자 폭탄을 투하하는 미국 폭격기 조종사
- ④ 터키 전선에서 기관총을 쏘는 인도인 병사
- ⑤ 유럽 전선에서 탱크를 타고 진격하는 영국 군인

\* 확인 사항

- 답안지의 해당란에 필요한 내용을 정확히 기입(표기)했는지 확인하시오.