


제 4 교시

직업탐구 영역(상업 정보 ①)

성명  수험 번호

1. 다음 자료에 나타난 내용과 관련된 국제 환경 협약으로 옳은 것은?

1989년 국가 간 유해 폐기물의 이동 및 처리에 대한 감시 체계를 구축하고 유해 폐기물을 이동하거나 처리하는 것을 금지하는 국제 환경 협약이 체결되었다. 그러나 일부 선진국들은 TV, 배터리, 휴대폰 등을 후진국과 개발도상국에 매립함으로써 국가 간의 분쟁을 야기하고 있다.



- ① 빈 협약
- ② 바젤 협약
- ③ 교토 의정서
- ④ 몬트리올 의정서
- ⑤ 생물 다양성 협약

[2~3] 다음은 조선 시대 상업 활동에 대한 내용이다. 물음에 답하시오.

(가) 조선 전기 지방 상업 활동은 주로 행상이 담당하였다. 행상은 육상(陸商)과 선상(船商)으로 구별하였다. 육상은 각 지역에서 수집한 농촌 사회 필수품을 고을과 고을로 다니면서 팔았다. 이들이 후에 보부상이라 불리던 상인이다.  
 (나) 조선 후기 서울의 장시(場市)에서는 육지와 바다를 통해 들어온 각 지방 토산품과 외국 상품이 거래되었으며, 또한 객주라는 상인이 등장하여 여인숙과 음식점을 운영하면서 생산자로부터 의뢰를 받아 물건을 대신 팔아주고 대가로 구전(口錢)을 받았다.  
 - 김돈, 『뿌리 깊은 한국사 샘이 깊은 이야기』 일부 수정 -

2. 위 (가), (나)에 공통적으로 나타난 상업의 기능으로 적절한 것을 <보기>에서 고른 것은?

- <보기> —
- ㄱ. 소유권을 이전하는 기능
  - ㄴ. 필요한 곳에 자금을 융통해 주는 기능
  - ㄷ. 생산지와 소비지의 불일치를 조절하는 기능
  - ㄹ. 위험 발생에 따른 경제적 손실을 보상해 주는 기능

- ① ㄱ, ㄴ
- ② ㄱ, ㄷ
- ③ ㄴ, ㄷ
- ④ ㄴ, ㄹ
- ⑤ ㄷ, ㄹ

3. 위 (나)에 나타난 상인을 오늘날의 보조 상인으로 분류할 경우에 대한 설명으로 옳은 것은? [3점]

- ① 경업 금지 의무를 갖는다.
- ② 특정 상인의 업무를 지속적으로 대리한다.
- ③ 특정 상인에게 고용되어 특정 상인의 영업 활동을 보조한다.
- ④ 자기 명의로 운송을 주선하고 운임의 차액을 수익으로 얻는다.
- ⑤ 불특정 다수의 고객이 위탁한 판매 업무를 수행하고 수수료를 받는다.

4. 다음 대화는 ○○(주)의 물류 관리 문제점에 대한 내용이다. 마케팅팀장과 물류팀장이 제기한 문제점을 해결할 수 있는 물적 유통 시스템으로 적절한 것은?

우리 회사의 물류 관리에 어떤 문제점이 있나요?

물류 기기 및 설비 등이 표준화되어 있지 않아 운송, 보관, 하역 과정에서 일관 운송 작업에 어려움이 있습니다.

화물 차량의 위치를 실시간으로 추적할 수 없어 높은 공차율이 발생하고 있습니다.



마케팅팀장



물류팀장

- | 마케팅팀장      | 물류팀장     |
|------------|----------|
| ① CVO 시스템  | 유닛로드 시스템 |
| ② POS 시스템  | CVO 시스템  |
| ③ POS 시스템  | 유닛로드 시스템 |
| ④ 유닛로드 시스템 | CVO 시스템  |
| ⑤ 유닛로드 시스템 | POS 시스템  |

5. 다음은 ○○(주)의 유통 전략 변경을 나타낸 것이다. 변경 전과 비교한 변경 후의 유통 전략에 대한 설명으로 적절한 것을 <보기>에서 고른 것은? [3점]

○○(주)는 판매량 증대를 위해 경영 컨설팅 전문가의 조언에 따라 다음과 같이 유통 전략을 변경하였다.

변경 전		변경 후
<ul style="list-style-type: none"> <li>· 원재료는 필요시 소량 구매함.</li> <li>· 주문에 의해 생산하여 소량으로 판매하는 방식을 사용함.</li> <li>· 전매권을 부여한 대리점에 자사 상품을 공급함.</li> </ul>	➔	<ul style="list-style-type: none"> <li>· 비용 절감을 위해 원재료는 대량으로 할인 구매함.</li> <li>· 할인된 가격으로 대량 판매하는 방식을 사용함.</li> <li>· 자사 상품을 취급하고자 하는 모든 판매처에 자사 상품을 공급함.</li> </ul>

- <보기> —
- ㄱ. 박리다매 방식이 도입되었다.
  - ㄴ. 자사 상품의 노출이 확대된다.
  - ㄷ. 원재료 구매에는 당용매입 방식이 도입되었다.
  - ㄹ. 전속적 유통 경로 정책에서 선택적 유통 경로 정책으로 변경되었다.

- ① ㄱ, ㄴ
- ② ㄱ, ㄷ
- ③ ㄴ, ㄷ
- ④ ㄴ, ㄹ
- ⑤ ㄷ, ㄹ

[6~7] 다음은 기준금리 변동에 따라 나타날 수 있는 경제 현상을 설명한 것이다. 물음에 답하시오. (단, 제시된 자료 외에는 고려하지 않는다.)

한국은행의 통화신용정책은 다양한 경로를 통하여 경제에 영향을 미친다. 한국은행이 기준금리를 인하할 경우 시중금리가 하락하고 소비와 투자가 활성화될 것이다.

기준금리 인하 → 시중 금리 하락 → 소비·투자 활성화

또한 기준금리 인하는 환율에도 영향을 미친다. 국내 금리가 하락하면 원화 표시 금융 자산의 수익률도 하락한다. 그러면 상대적으로 수익률이 높아진 달러화 표시 금융 자산에 대한 투자자들의 매입 수요가 증가한다. 이는 외환 시장에서 달러화에 대한 수요 증가를 가져와 환율을 변동시킬 것이다.

6. 윗글에 나타난 기준금리 변화에 따른 소비·투자 활성화와 동일한 효과를 기대할 수 있는 한국은행의 통화신용정책으로 적절한 것을 <보기>에서 고른 것은? [3점]

—————<보기>—————

ㄱ. 지급준비율을 인하한다.  
 ㄴ. 통화안정증권을 상환한다.  
 ㄷ. 보유하고 있는 국·공채를 매각한다.  
 ㄹ. 시중 은행에 대한 대출 금리를 인상한다.

- ① ㄱ, ㄴ                      ② ㄱ, ㄷ                      ③ ㄴ, ㄷ  
 ④ ㄴ, ㄹ                      ⑤ ㄷ, ㄹ

7. 윗글의 기준금리 변화에 따른 환율 변동이 지속될 경우 유리한 우리나라 기업으로 적절한 것은? (단, 환율만 고려한다.) [3점]

- ① 미국에 상품을 수출하는 기업  
 ② 미국에서 소비재를 수입하는 기업  
 ③ 미국에 현지 공장을 건설하려는 기업  
 ④ 미국으로부터 차입한 달러를 상환하려는 기업  
 ⑤ 미국에서 사원의 해외 연수를 실시하려는 기업

8. 다음 대화는 사회 보험에 관한 내용이다. (가), (나)에 해당하는 보험에 대한 설명으로 옳은 것은?



- ① (가)는 가입과 탈퇴가 자유롭다.  
 ② (가)는 저축성 기능을 가진 보험이다.  
 ③ (나)는 고용 보험에 해당한다.  
 ④ (가)는 근로자, (나)는 사업주가 보험료 전액을 부담한다.  
 ⑤ (가)와 (나)는 만기 시 보험료 전액을 환급받는다.

9. 다음은 우리나라의 수입업자인 ○○무역(주)가 작성한 청약 내용의 일부이다. [청약 조건]에 따라 계약이 체결될 경우 ○○무역(주)가 수행해야 할 업무로 옳은 것은? (단, 가격 조건은 인코텀즈 2000에 의한다.) [3점]

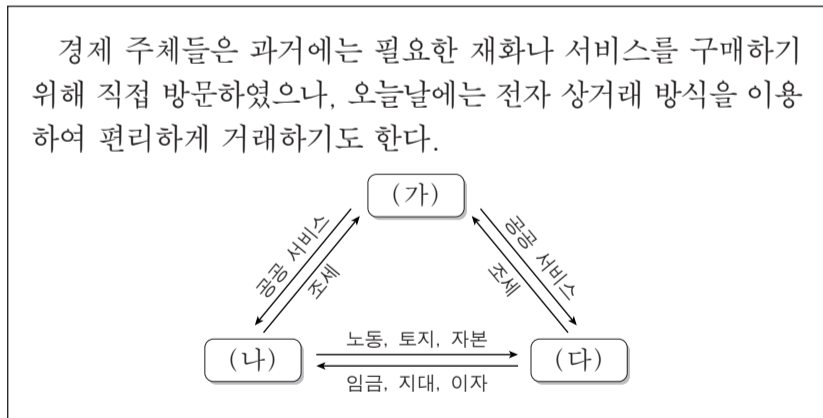
○○무역(주)는 중국의 △△(주)에 다음과 같은 조건으로 구매 청약을 하였다.

[청약 조건]

품 명	옥수수
품질 조건	FAQ(1등급, 국제 품질 기준)
가격 조건	US \$10,000 CFR Busan
대금 지급	일람 출금 신용장 방식
선 적	2014년 10월

- ① 선박 회사에 선적을 요청한다.  
 ② 해상 운송 계약을 체결하고 운임을 지급한다.  
 ③ 거래 은행에 대금 지급을 약속하는 증서 발행을 의뢰한다.  
 ④ 통지 은행으로부터 신용장을 발급받아 수출업자에게 송부한다.  
 ⑤ 선적 서류를 인수하고 일정 기간 후 환어음의 만기일에 대금을 지급한다.

10. 다음은 경제 주체 간 경제 활동을 나타낸 것이다. (가)~(다)의 경제 주체 간 전자 상거래에 대한 설명으로 적절한 것을 <보기>에서 고른 것은?



—————<보기>—————

ㄱ. (가)와 (나) 간의 거래는 B2C에 해당된다.  
 ㄴ. (다)에 해당하는 경제 주체 간의 거래는 B2B에 해당된다.  
 ㄷ. 국제청 사이트에서 개인이 세금을 납부한 경우는 (가)와 (다) 간의 거래에 해당된다.  
 ㄹ. 인터넷 쇼핑몰에서 개인이 물품을 구입하는 경우는 (나)와 (다) 간의 거래에 해당된다.

- ① ㄱ, ㄴ                      ② ㄱ, ㄷ                      ③ ㄴ, ㄷ  
 ④ ㄴ, ㄹ                      ⑤ ㄷ, ㄹ

11. 다음은 지식재산권에 대한 내용이다. (가)에 해당하는 권리에 대한 설명으로 가장 적절한 것은?

이 권리의 어원은 '소인(消印)'의 의미로서 '상품 혹은 용기 위에 소인으로 날인한 상업적 표장'을 의미한다. 이러한 표장은 법의 보호를 받기 위하여 등록을 하게 되는데 이와 같이 등록을 마친 것을 '등록상표'라 하고, 이를 보호하는 권리를 (가)이라 한다.

이 권리에 대한 국제 협약은 1883년 파리에서 최초로 체결되었다. 오늘날에는 외국의 상표 소유자도 국내 상표 소유자와 똑같이 이 권리가 인정되고 있다.

- ① 물품의 최초 발명에 부여하는 권리이다.
- ② 학문, 예술 등의 창작물에 부여하는 권리이다.
- ③ 물품의 형상, 구조 개선 등에 부여하는 권리이다.
- ④ 물품 모양, 색채 등의 디자인에 부여하는 권리이다.
- ⑤ 타 상품과 식별되는 기호, 문자 등에 부여하는 권리이다.

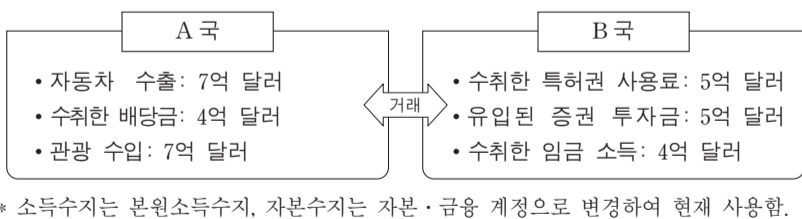
12. 다음은 ○○(주)가 경영 관리 부문의 문제를 해결하기 위해 의뢰하고 받은 컨설팅 보고서의 일부이다. 이에 따라 ○○(주)가 강화해야 할 경영 관리 부문으로 적절한 것은?

**컨설팅 보고서**

- 평가 의견  
부서 간 업무 중복 및 인력 배치에 문제가 있어 직원들의 근로 의욕이 저하되고 업무 효율성이 떨어지고 있음.
- 해결 방안  
- 사원에게 동기 부여를 하기 위한 조치가 필요함.  
- 사원의 재교육을 통한 업무 재배치가 요구됨.  
- 적절한 상여금 지급 등 보상 활동을 강화할 필요가 있음.

- ① 생산 관리                      ② 재무 관리
- ③ 회계 관리                      ④ 마케팅 관리
- ⑤ 인적 자원 관리

13. 다음은 A국과 B국 간 거래에 따른 양국의 유출입액을 나타낸 것이다. A국과 B국의 국제수지에 대한 설명으로 옳은 것만을 <보기>에서 있는 대로 고른 것은? (단, 제시된 A국과 B국 간 거래 외에는 고려하지 않는다.) [3점]



\* 소득수지는 본원소득수지, 자본수지는 자본·금융 계정으로 변경하여 현재 사용함.

— <보기> —

ㄱ. B국의 서비스수지는 2억 달러 적자이다.  
 ㄴ. A국과 B국 모두 소득수지는 균형을 이루었다.  
 ㄷ. A국의 경상수지와 B국의 자본수지는 모두 적자이다.

- ① ㄱ                              ② ㄷ                              ③ ㄱ, ㄴ
- ④ ㄴ, ㄷ                        ⑤ ㄱ, ㄴ, ㄷ

14. 다음은 유통 경로와 관련된 [수행평가 과제]와 [A 학생이 작성한 답안지]를 나타낸 것이다. ㉠~㉣에서 잘못된 것을 바르게 수정한 내용으로 옳은 것을 <보기>에서 고른 것은?

[수행평가 과제]

• 다음은 유통 경로의 유형과 적용 예를 나타낸 것이다. 이 경로의 특징을 서술하시오.

적용 예: 생활필수품이나 공산품의 유통

[A 학생이 작성한 답안지]

이 유통 경로는 소량 생산-소량 소비 유통 경로보다 ㉠ 단순한 구조로서 ㉡ 대량 생산-대량 소비에 해당합니다. 이 유통 경로에는 중계 기관 및 ㉢ 매집상과 이출상이 필요하며, ㉣ 수집 기관이 없는 유통 경로입니다.

— <보기> —

ㄱ. ㉠을 '복잡한 구조'로 수정한다.  
 ㄴ. ㉡를 '대량 생산-소량 소비'로 수정한다.  
 ㄷ. ㉢를 '분산 기관'으로 수정한다.  
 ㄹ. ㉣를 '소매상'으로 수정한다.

- ① ㄱ, ㄴ                              ② ㄱ, ㄷ                              ③ ㄴ, ㄷ
- ④ ㄴ, ㄹ                              ⑤ ㄷ, ㄹ

15. 다음은 A씨의 [금융 상품 보유 현황]과 [전문가 조언]을 나타낸 것이다. 전문가의 조언을 모두 반영하여 구성한 금융 상품 보유 비중으로 적절한 것은? [3점]

A씨는 현재 자신이 보유한 금융 상품을 효율적으로 운용하기 위해 전문가의 조언을 받았다.

[금융 상품 보유 현황] (단위: %)

금융 상품	주식	보험	회사채
보유 비중	50	30	20

[전문가 조언]

- 원금을 상환받을 수 있는 자본 증권의 비중이 보유하고 있는 금융 상품 중 가장 클 것
- 위험 대비 목적의 금융 상품 비중이 기업의 자기 자본을 구성하는 금융 상품의 비중보다 클 것
- 기업이 자금을 조달하기 위해 발행한 자본 증권에 투자한 금융 상품의 비중이 전체의 65% 이하일 것

- |   |     |     |     |
|---|-----|-----|-----|
|   | 주식  | 보험  | 회사채 |
| ① | 10% | 30% | 60% |
| ② | 10% | 40% | 50% |
| ③ | 20% | 50% | 30% |
| ④ | 30% | 20% | 50% |
| ⑤ | 30% | 40% | 30% |



[16~17] 다음은 우리나라 ○○(주)의 해외 진출 과정에 대한 내용이다. 물음에 답하시오.

○○(주)는 해외 진출을 위해 A국에서 발주한 현지 정유 공장 '시공 업체 선정 공고문'을 검토한 후, 정유 공장 시공 업체 선정에 참여하여 공사를 수주하였다.

○○(주)는 공사의 설계·구매·시공까지 전 과정을 일괄 수행한 뒤 정유 공장을 일정 기간 운영한 후 A국에 양도한다.

시공 업체 선정 공고문

A국 현지 정유 공장 건설에 참여할 시공 업체를 다음과 같은 조건으로 입찰 공고합니다.

- 사업 명: A국 정유 공장 건설
- 입찰 자격: 정유 공장 시공 업체로서 최근 2년간 해외 공사 수주 실적이 있는 기업

16. 위 시공 업체 선정 공고문에 나타난 경쟁 매매 방법에 대한 설명으로 적절한 것을 <보기>에서 고른 것은?

<보기>

- ㄱ. 적상법을 이용한다.
- ㄴ. 주로 서면으로 가격을 제시한다.
- ㄷ. 최저 가격을 제시하는 업체가 낙찰자로 선정된다.
- ㄹ. 판매자와 구매자 간 동시 경쟁으로 가격이 결정된다.

- ① ㄱ, ㄴ                      ② ㄱ, ㄷ                      ③ ㄴ, ㄷ
- ④ ㄴ, ㄹ                      ⑤ ㄷ, ㄹ

17. 위 ○○(주)의 해외 진출 방식에 대한 설명으로 적절한 것은? (단, 제시된 자료 외에는 고려하지 않는다.) [3점]

- ① 해외 간접 투자 방식에 속한다.
- ② 국제 프랜차이즈 방식을 활용하여 계약한다.
- ③ A국의 현지 기업과 합작 투자하는 방식에 해당한다.
- ④ 정유 공장 건설 자금은 공장을 건설한 후 운영 수익으로 회수한다.
- ⑤ A국 정유 공장 건설 시 산업재산권을 제공하고 로열티를 획득한다.

18. 다음 밑줄 친 지급 용구에 대한 설명으로 옳은 것을 <보기>에서 고른 것은?

최초로 이 카드를 만든 '프랭크 맥나마라'는 1950년 어느 날 뉴욕에서 식사를 한 뒤 계산을 하려는데 지갑을 가지고 오지 않아 큰 곤란을 겪었다. 그 후 많은 사람들이 자신과 같은 일을 경험했다는 것을 알고는 친구와 함께 '○○카드'를 만들었다.

이를 시초로 오늘날 이 지급 수단은 일정한 자격을 갖춘 기관이 신청인의 신용 상태나 미래 소득을 근거로 상품이나 서비스를 구매할 수 있도록 발행하는 지급 용구로 널리 사용하고 있다.

<보기>

- ㄱ. 직불 카드에 해당한다.
- ㄴ. 할부 구매가 가능하다.
- ㄷ. 후급 형태의 지급 수단이다.
- ㄹ. 예금 잔액 한도 내에서 사용한다.

- ① ㄱ, ㄴ                      ② ㄱ, ㄷ                      ③ ㄴ, ㄷ
- ④ ㄴ, ㄹ                      ⑤ ㄷ, ㄹ

19. 다음은 A(주)의 수출 방식 변경에 관한 내용이다. 이를 통해 알 수 있는 내용으로 적절한 것은? [3점]

우리나라의 A(주)는 국내 인건비 상승으로 인해 가격 경쟁력이 떨어져 수출 방식을 다음과 같이 변경하였다.

변경 전	변경 후
A(주)는 국내보다 원재료 가격이 저렴한 제3국에서 갑 상품의 원재료를 수입한 후, 국내에서 완성품을 생산하여 수출함.	A(주)는 제3국에서 원재료를 수입하여 ○○국의 B(주)에 제공하고, A(주)의 상표를 부착하여 갑 상품을 생산할 것을 주문한 후 완성품을 A(주)가 지정한 자에게 수출함.

- ① 변경 전 A(주)의 수출 방식은 구상 무역이다.
- ② 변경 전 A(주)의 수출 방식은 간접 무역 형태이다.
- ③ 변경 후 A(주)는 B(주)의 경영권을 획득한다.
- ④ 변경 후 B(주)의 입장에서 본 무역은 녹다운 방식의 형태이다.
- ⑤ 변경 후 A(주)는 위탁 가공과 OEM 방식을 결합한 형태를 활용하고 있다.

20. 다음은 A~D국 간 [경제 협정 체결 전]과 [경제 협정 체결 후]를 나타낸 것이다. 경제 협정 체결 후에 A국에서 나타날 수 있는 상황으로 적절한 것을 <보기>에서 고른 것은? (단, 수입 가격은 '수입 단가+관세'이며, 제시된 자료 외에는 고려하지 않는다.) [3점]

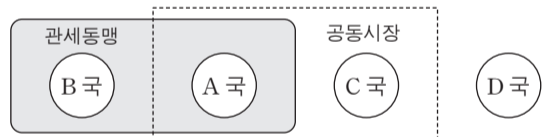
[경제 협정 체결 전]

• A국은 B, C, D국으로부터 아래와 같은 가격으로 갑 상품을 수입하고 있다.

국가	갑 상품의 수입 단가	관세 부과율(수입 단가 기준)
B국	US \$ 10	100%
C국	US \$ 12	
D국	US \$ 8	

[경제 협정 체결 후]

• A, B, C국 간 아래와 같은 경제 협정이 발효되었다.



• 회원국 간 갑 상품의 수입 관세는 철폐되고, 비회원국 간 갑 상품의 수입 관세는 체결 전과 동일하다.

<보기>

- ㄱ. A국이 B국으로부터 수입하는 갑 상품의 수입 가격이 가장 저렴해진다.
- ㄴ. A국이 C국으로부터 수입하는 갑 상품의 수입 가격은 D국보다 비싸진다.
- ㄷ. A국과 C국 간 자본의 이동은 A국과 B국 간 자본의 이동보다 자유로워진다.
- ㄹ. A국은 C국과 함께 수립한 공동 경제 정책을 B, D국에 동일하게 적용한다.

- ① ㄱ, ㄴ                      ② ㄱ, ㄷ                      ③ ㄴ, ㄷ
- ④ ㄴ, ㄹ                      ⑤ ㄷ, ㄹ

\* 확인 사항

○ 답안지의 해당란에 필요한 내용을 정확히 기입(표기)했는지 확인하시오.

제 4 교시

직업탐구 영역(상업 정보 ②)

성명  수험 번호

1. 표는 회계 정보 이용자의 이용 목적에 따른 회계의 분류 중 일부를 나타낸 것이다. (가), (나)에 해당하는 회계로 적절한 것은? (단, 제시된 자료 외에는 고려하지 않는다.)

회계 정보 이용자	이용 목적	회계의 분류
경영자	경영 의사 결정	(가)
투자자, 채권자	투자 및 신용 의사 결정	(나)

- (가)                      (나)                      (가)                      (나)
- ① 관리회계              세무회계              ② 관리회계              재무회계
- ③ 세무회계              재무회계              ④ 세무회계              관리회계
- ⑤ 재무회계              관리회계

2. 다음은 ○○(주)의 거래 및 분개이다. 이를 통해 거래 요소의 결합 관계를 추정할 경우 (가), (나)에 해당하는 거래 요소로 옳은 것은?

• 거래 및 분개

5월 6일 △△상점에 상품 ₩50,000을 주문하고 계약금 ₩10,000을 현금으로 지급하다.  
(차변)  (가) (대변) 현금              10,000

5월 9일 위 주문한 상품이 도착하여 인수하고 계약금을 차감한 잔액은 외상으로 하다.  
(차변) 매입              50,000 (대변) 선금금              10,000  
 (나)

- (가)                      (나)
- ① 자산의 증가              부채의 증가
- ② 자산의 증가              자산의 감소
- ③ 자산의 증가              자본의 증가
- ④ 부채의 감소              부채의 증가
- ⑤ 부채의 감소              자산의 감소

3. 다음 내용을 모두 포함하는 계정과목으로 옳은 것을 <보기>에서 고른 것은?

- 재무상태표 계정에 해당한다.
- 증가는 해당 계정의 대변에 기입하고, 감소는 해당 계정의 차변에 기입한다.
- 자본 항목에 해당하지 않는다.

— <보기> —

ㄱ. 선수금	ㄴ. 영업권
ㄷ. 미지급금	ㄹ. 이익준비금

- ① ㄱ, ㄴ    ② ㄱ, ㄷ    ③ ㄴ, ㄷ    ④ ㄴ, ㄹ    ⑤ ㄷ, ㄹ

4. 다음의 대화에서 ○○(주)의 재무팀장이 대출 담당 과장에게 추가로 제출할 재무제표로 가장 적절한 것은? (단, 한국채택 국제회계기준을 적용한다.)



\* 일반기업회계기준에서는 재무성과를 경영성과, 포괄손익계산서를 손익계산서라고 한다.

- ① 재무상태표              ② 자본변동표              ③ 현금흐름표
- ④ 포괄손익계산서              ⑤ 이익잉여금처분계산서

5. 다음은 개인기업인 ○○상점의 [거래]와 이를 기입한 분개장의 일부이다. 이를 회계 처리한 결과로 나타난 재무제표 항목의 금액 증감으로 옳은 것은? [3점]

[거래]

5월 23일 기업주 개인이 부담해야 할 소득세 ₩200,000을 ○○상점이 소지하고 있던 타인 발행 당좌수표로 지급하다.

**분개장**

날짜	적 요	원면	차변	대변
5 23 (인출금)	(현 금)	생	200,000	
	기업주 개인 부담의 소득세 납부	락		200,000

- ① 자본금 ₩200,000 감소
- ② 유동부채 ₩200,000 증가
- ③ 비유동자산 ₩200,000 감소
- ④ 당기순이익 ₩200,000 증가
- ⑤ 비유동부채 ₩200,000 증가

6. 다음은 유가증권시장 상장사들의 자산 변동과 관련된 기사 내용의 일부이다. 이에 나타난 자산의 증가에 영향을 미치는 거래로 옳은 것은? (단, 제시된 자료 외에는 고려하지 않는다.) [3점]

지난해 결산 결과, 유가증권시장 상장사들의 유동자산이 증가하여 유동성이 개선된 것으로 나타났다. 이는 12월 결산 법인의 전체 유동자산이 422조 7,688억 원으로 전년보다 4.82% 증가하였고 ... (이하 생략)  
- ○○신문, 2014년 4월 3일 자 -

- ① 현금 ₩1,000,000을 3년 만기 정기에금에 예입하다.
- ② 비품을 구입하고 대금 ₩1,000,000을 현금으로 지급하다.
- ③ 특허권을 취득하고 대금 ₩2,000,000을 현금으로 지급하다.
- ④ 거래처에 현금 ₩500,000을 대여하고 2년 후에 회수하기로 하다.
- ⑤ 비업무용 토지를 ₩6,000,000(장부금액 ₩5,000,000)에 처분하고 대금은 현금으로 받다.

7. 다음은 ○○(주)의 2014년 3월 7일에 발생한 거래를 기입한 전표이다. (가), (나)에 들어갈 내용으로 옳은 것은? (단, 3전표제를 채택한다.)

(가)				담당	과장	부장
2014년 3월 7일				한국	교육	과정
No. 10						
계정과목	금 액			계정과목	금 액	
당좌예금	3	9	50000	(나)	4	00000
매출채권처분손실		5	0000			
합 계	₩	4	000000	합 계	₩	4000000
적요	상품 매출 대금으로 2월 6일에 받은 2개월 만기의 약속어음 할인					

- |        |       |
|--------|-------|
| (가)    | (나)   |
| ① 입금전표 | 받을어음  |
| ② 출금전표 | 받을어음  |
| ③ 대체전표 | 받을어음  |
| ④ 출금전표 | 외상매출금 |
| ⑤ 대체전표 | 외상매출금 |

8. 다음은 ○○(주)의 업무용 건물 리모델링과 관련된 [거래] 및 [지출의 효과]이다. 이를 분개한 것으로 옳은 것은?

[거래]  
7월 15일 업무용으로 사용 중인 건물의 일부를 증축하고 엘리베이터를 교체한 후 대금 ₩3,000,000을 자기앞수표로 지급하다.

[지출의 효과]  
리모델링 후 건물의 내용연수가 3년 연장되었으며, 건물의 가치가 증대되었다.

- |                  |                |
|------------------|----------------|
| 차변               | 대변             |
| ① 건물 3,000,000   | 현금 3,000,000   |
| ② 건물 3,000,000   | 당좌예금 3,000,000 |
| ③ 수선비 3,000,000  | 현금 3,000,000   |
| ④ 수선비 3,000,000  | 당좌예금 3,000,000 |
| ⑤ 기계장치 3,000,000 | 현금 3,000,000   |

9. 다음은 ○○(주)의 증자 결정에 관한 이사회 회의록의 일부와 증자 완료 후 이를 회계 처리하여 반영한 재무상태표의 일부이다. (가), (나)의 금액으로 옳은 것은? (단, 일반기업회계기준을 적용하고, 회의 결과 외의 당기 중 자본 거래는 없었으며, 제시된 자료 외에는 고려하지 않는다.) [3점]

회 의 록					
안건	증자의 결정	일시	2013년 9월 30일	장소	회의실
회의 결과	다음과 같이 무상증자를 하기로 결의함. • 신주의 종류와 수: 보통주 200주 • 1주당 액면금액: ₩5,000 • 신주의 재원: 주식발행초과금				

재무상태표		
제8기	2013년 12월 31일	현재
제7기	2012년 12월 31일	현재
○○(주) (단위: 원)		
과 목	당 기	전 기
자본		
자본금	(가)	5,000,000
자본잉여금	×××	×××
주식발행초과금	2,000,000	(나)

※ 한국채택국제회계기준에서는 자본을 납입자본, 이익잉여금, 기타자본구성요소로 분류한다.

- |              |            |
|--------------|------------|
| (가)          | (나)        |
| ① ₩4,000,000 | ₩2,000,000 |
| ② ₩4,000,000 | ₩3,000,000 |
| ③ ₩6,000,000 | ₩1,000,000 |
| ④ ₩6,000,000 | ₩3,000,000 |
| ⑤ ₩8,000,000 | ₩5,000,000 |

10. 다음은 ○○(주)의 당좌예금출납장과 [거래]이다. 이를 회계 처리한 후 결산 시 재무상태표에 표시될 통합 항목과 이에 포함될 금액으로 옳은 것은? (단, 회계기간은 매년 1월 1일부터 12월 31일 까지이다.) [3점]

당좌예금출납장					
날짜	적 요	예입	인출	차·대	잔액
12 1	전월이월	50,000		차	50,000

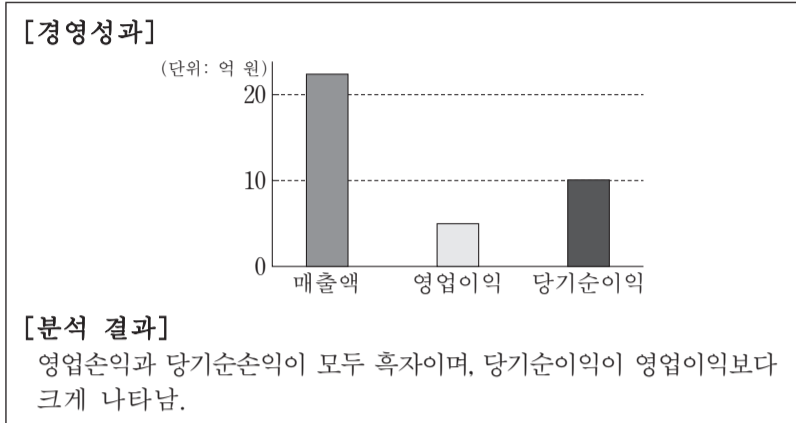
  

[거래]  
12월 16일 상품을 ₩250,000에 매입하고 대금은 당좌수표를 발행하여 지급하다. (단, ₩300,000 한도의 당좌차월 계약이 체결되어 있다.)  
12월 23일 상품을 ₩280,000에 매출하고 대금은 현금으로 받아 당좌예입하다.

- |            |          |
|------------|----------|
| 통합 항목      | 금액       |
| ① 단기차입금    | ₩80,000  |
| ② 단기차입금    | ₩200,000 |
| ③ 현금및현금성자산 | ₩20,000  |
| ④ 현금및현금성자산 | ₩30,000  |
| ⑤ 현금및현금성자산 | ₩80,000  |



11. 다음은 ○○(주)의 2013년 [경영성과]와 이에 대한 [분석 결과]이다. 이러한 분석 결과가 나타나게 된 원인으로 적절한 것을 <보기>에서 고른 것은? (단, 제시된 자료 외에는 고려하지 않는다.) [3점]



- <보기> —
- ㄱ. 자기주식의 처분으로 이익이 발생하였다.
  - ㄴ. 보통예금에 대한 이자수익이 발생하였다.
  - ㄷ. 업무용 건물의 처분으로 이익이 발생하였다.
  - ㄹ. 발행한 주식을 액면금액 미만으로 매입 소각하여 차익이 발생하였다.

- ① ㄱ, ㄴ                      ② ㄱ, ㄷ                      ③ ㄴ, ㄷ  
④ ㄴ, ㄹ                      ⑤ ㄷ, ㄹ

12. 다음은 ○○(주)의 2013년 단기매매금융자산 관련 [거래]와 수정 후 잔액시산표의 일부이다. (가)에 들어갈 금액으로 옳은 것은? (단, 한국채택국제회계기준을 적용하며, 제시된 자료 외에는 고려하지 않는다.) [3점]

**[거래]**

- 11월 15일 △△(주)의 주식 100주를 ₩200,000(1주당 ₩2,000)에 취득하고 대금은 현금으로 지급하다.
- 12월 10일 위 주식 중 50주를 ₩80,000(1주당 ₩1,600)에 처분하고 대금은 현금으로 받아 당좌예입하다.
- 12월 31일 결산 시 현재 보유 중인 위 주식의 공정가치를 1주당 (가)으로 평가하다.

**잔액시산표(수정 후)**  
○○(주)                      2013년 12월 31일                      (단위: 원)

차변	원면	계정과목	대변
⋮		⋮	
xxx	생	단기매매금융자산	⋮
		⋮	
	락	단기매매금융자산평가이익	40,000
20,000		단기매매금융자산처분손실	

\* 일반기업회계기준에서는 단기매매금융자산을 단기매매증권, 단기매매금융자산평가이익을 단기투자자산평가이익, 단기매매금융자산처분손실을 단기투자자산처분손실이라고 한다.

- ① ₩1,600                      ② ₩2,000                      ③ ₩2,400  
④ ₩2,800                      ⑤ ₩3,200

13. 다음 대화는 개인기업인 ○○상점의 회계 담당자가 결산 시 재무상태를 사장에게 보고하는 내용이다. 사장의 질문에 대한 회계 담당자의 답변으로 옳은 것은? (단, 제시된 자료 외에는 고려하지 않는다.)



- ① 당기순손실 ₩50,000입니다.
- ② 당기순이익 ₩50,000입니다.
- ③ 당기순이익 ₩150,000입니다.
- ④ 당기순손실 ₩250,000입니다.
- ⑤ 당기순이익 ₩250,000입니다.

14. 다음은 ○○(주)의 2013년 대손충당금 계정과 결산 정리 사항을 나타낸 것이다. 결산 정리 사항을 분개한 것으로 옳은 것은? (단, 제시된 자료 외에는 고려하지 않는다.) [3점]

**대손충당금**

10/ 8 외상매출금	2,000	1/ 1 전 기 이 월	15,000
11/ 7 외상매출금	3,000		

• 결산 정리 사항  
12월 31일 외상매출금 잔액에 대하여 ₩6,000의 대손을 추산하다.

- | 차변      |       | 대변      |       |
|---------|-------|---------|-------|
| ① 대손상각비 | 4,000 | 대손충당금   | 4,000 |
| ② 대손상각비 | 6,000 | 대손충당금   | 6,000 |
| ③ 대손상각비 | 6,000 | 외상매출금   | 6,000 |
| ④ 대손충당금 | 4,000 | 대손충당금환입 | 4,000 |
| ⑤ 대손충당금 | 6,000 | 대손충당금환입 | 6,000 |

15. 다음은 ○○(주)의 매출처원장 일부와 누락 사항이다. 이를 반영한 후의 △△상점에 대한 외상매출금 미회수액으로 옳은 것은? (단, 제시된 자료 외에는 고려하지 않는다.)

**매출처원장**  
△△상점

1/ 1 전 기 이 월	120,000	1/ 6 현 금	50,000
20 매 출	200,000		

• 누락 사항  
△△상점에 1월 20일 매출한 상품 중 불량품 ₩20,000이 1월 22일에 반품되어 왔다.

- ① ₩140,000                      ② ₩250,000                      ③ ₩270,000  
④ ₩320,000                      ⑤ ₩390,000

16. 다음은 ○○(주)가 2014년 9월 22일에 영업 비용을 납부하고 받은 지로영수증의 일부이다. 이를 ○○(주)가 분개할 때 차변 계정과목으로 옳은 것은?

OCR									
도시가스 지로영수증									
(고객용)									
지로번호	4	0	0	2	*	*	*		
금액	300,000원								
고객명	○○(주)			고객번호	120****				
사용량	300m <sup>3</sup>								
주소	△△시 수능로 116								
납부마감일	2014. 09. 30.								
□□도시가스								수납인	

- ① 운반비                      ② 접대비                      ③ 광고선전비
- ④ 복리후생비                ⑤ 수도광열비

[17~18] 다음은 개인기업인 ○○상점의 결산 시 손익 계정과 이월자산표의 일부이다. 물음에 답하시오. (단, 회계기간은 매년 1월 1일부터 12월 31일까지이며, 제시된 자료 외에는 고려하지 않는다.)

손익			
매입	60,000	매출	130,000
급여	22,000	이자수익	5,000
임차료	10,000		
감가상각비	1,000		
자본금	42,000		
	<u>135,000</u>		<u>135,000</u>

이월자산표			
2013년 12월 31일			
○○상점		(단위: 원)	
차변	원면	계정과목	대변
4,000	생 략	선급임차료	
3,000		미수이자	
20,000		이월상품	
10,000		비품감가상각누계액	2,000
		미지급급여	10,000
		자본금	500,000
			<u>800,000</u>
<u>800,000</u>			<u>800,000</u>

17. 위 자료를 통해 알 수 있는 내용으로 옳은 것은? [3점]
- ① 결산 후 비품의 장부금액은 ₩8,000이다.
  - ② 손익 계정의 자본금 ₩42,000은 당기순손실이다.
  - ③ 이월자산표의 선급임차료 ₩4,000은 당기 임차료이다.
  - ④ 이월자산표의 미수이자 ₩3,000은 차기 이자수익이다.
  - ⑤ 손익 계정의 급여 ₩22,000은 당기에 현금으로 지급한 금액이다.

18. 위 자료를 통해 2013년 ○○상점의 판매가능상품액을 계산한 금액으로 옳은 것은?
- ① ₩40,000                      ② ₩60,000                      ③ ₩80,000
  - ④ ₩110,000                    ⑤ ₩150,000

19. 다음은 ○○(주)가 발행한 사채 관련 자료이다. 이를 통해 알 수 있는 내용으로 옳은 것은? (단, 회계기간은 매년 1월 1일부터 12월 31일까지이며, 제시된 자료 외에는 고려하지 않는다.) [3점]

- 사채 발행 및 상환 관련 자료  
2012년 1월 1일에 사채(액면금액 ₩100,000, 이자는 매년 말에 지급)를 발행하였다. 이 사채의 만기일은 2014년 12월 31일이나 2014년 1월 1일에 전액을 ₩98,000에 현금으로 매입하여 상환하였다.
- 사채할인발행차금 상각 관련 자료 (단위: 원)

날짜	유효이자	액면이자	사채할인발행차금 상각액	장부금액
2012년 1월 1일	-	-	-	95,024
2012년 12월 31일	xxx	8,000	1,502	xxx
2013년 12월 31일	xxx	xxx	xxx	98,179

- ① 사채의 발행금액은 ₩100,000이다.
- ② 발행 시 사채의 유효이자율은 8%이다.
- ③ 2012년 결산 시 사채할인발행차금 상각액은 2013년 결산 시 상각액보다 적다.
- ④ 2013년 결산 시 손익 계정에 대체한 사채 이자비용은 ₩8,000이다.
- ⑤ 2014년 1월 1일 상환 시 사채상환손실 ₩179이 발생한다.

20. 다음은 ○○(주)의 2013년 상품재고장 일부와 [상품 관련 자료]이다. 이를 통해 알 수 있는 내용으로 옳은 것만을 <보기>에서 있는 대로 고른 것은? (단, 일반기업회계기준을 적용하고, 회계기간은 매년 1월 1일부터 12월 31일까지이며, 제시된 자료 외에는 고려하지 않는다.) [3점]

상품재고장										
선입선출법		품명: 갑상품						(단위: 개, 원)		
날짜	적요	인수			인도			잔액		
		수량	단가	금액	수량	단가	금액	수량	단가	금액
1	1 전기이월	10	500	5,000				10	500	5,000
12 31	차기이월				20	600	12,000			

[상품 관련 자료]

- 당기 순매입액: ₩200,000
- 12월 31일에 갑상품의 실제 재고를 조사한 결과, 상품재고장에 기록된 내용과는 다르게 창고에 보관 중인 실제 수량은 15개였다. 장부상 수량과 실제 수량의 차이 중 3개는 정상적인 감모이고, 나머지는 비정상적인 감모로 밝혀졌다. 그리고 현재 보유하고 있는 상품의 순실현가능가치는 1개당 ₩400으로 평가되었다.

\* 한국채택국제회계기준에서는 재고자산에 대한 감모손실과 평가손실을 발생한 기간에 비용으로 인식한다.

<보기>

ㄱ. 기말상품의 실제 재고액은 ₩10,800이다.  
 ㄴ. 재고자산평가손실은 ₩3,000이다.  
 ㄷ. 매출원가는 ₩197,800이다.

- ① ㄱ                      ② ㄷ                      ③ ㄱ, ㄴ                      ④ ㄴ, ㄷ                      ⑤ ㄱ, ㄴ, ㄷ

\* 확인 사항

○ 답안지의 해당란에 필요한 내용을 정확히 기입(표기)했는지 확인하시오.